



**ADE**

AVALIAÇÃO DESEMPENHO EDUCACIONAL

NOME:

4º ANO:

PROFESSORA:

AVALIANDO A ALFABETIZAÇÃO EM PORTUGUÊS

SECRETARIA MUNICIPAL DE EDUCAÇÃO

RONCADOR, 2017

## AVALIAÇÃO DE MATEMÁTICA

### QUESTÃO 01

Observe a sala de aula de André:




O estudante que está mais distante da porta é


- A) ( ) Júlia.      B) ( ) Maria.      C) ( ) Rosa.      D) ( ) João.

### QUESTÃO 02

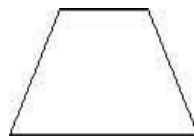
Ao escolher lajotas para o piso de sua varanda, Dona Lúcia falou ao vendedor que precisava de lajotas que tivessem os quatro lados com a mesma medida.



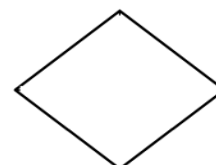
Quadrado



Retângulo



Trapézio



Losango

Que lajotas o vendedor deve mostrar a Dona Lúcia?

- A) ( ) losango ou quadrado.  
B) ( ) quadrado ou retângulo.  
C) ( ) quadrado ou trapézio.  
D) ( ) losango ou trapézio.

### QUESTÃO 03

Para uma temporada curta, chegou à cidade o circo Fantasia, com palhaços, mágicos e acrobatas. O circo abrirá suas portas ao público às 9 horas e ficará aberto durante 9 horas e meia. A que horas o circo fechará?

- A) ( ) 16h30      B) ( ) 17h30      C) ( ) 17h45      D) ( ) 18h30

#### QUESTÃO 04

Compare o tamanho do palito de fósforo em relação a caneta.

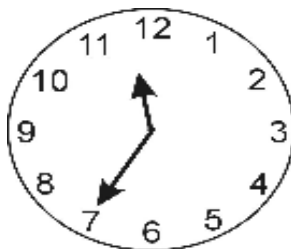


A quantidade de palitos de fósforo que correspondem ao tamanho da caneta é aproximadamente

- A) ( ) 2 palitos.
- B) ( ) 4 palitos.
- C) ( ) 6 palitos.
- D) ( ) 8 palitos.

#### QUESTÃO 05

Maria colocou um bolo para assar na hora indicada no relógio da figura seguinte.




O bolo ficou pronto em 30 minutos. Que horário o relógio indicava quando o bolo ficou pronto?

- A) ( ) 11 horas 50 minutos.
- B) ( ) 12 horas 5 minutos.
- C) ( ) 12 horas 50 minutos.
- D) ( ) 13 horas 10 minutos.

#### QUESTÃO 06

O número do ônibus escrito por extenso é:

- A) ( ) oitocentos e trinta e quatro
- B) ( ) oitocentos e sessenta e quatro
- C) ( ) trezentos e oitenta e um
- D) ( ) setecentos e sessenta e quatro.





### QUESTÃO 10

Rodrigo quer trocar seu dinheiro por apenas uma nota que represente a mesma quantia.



Por qual cédula ele poderá trocar?

A) ( )



B) ( )



C) ( )



D) ( )



**BOA SORTE!**

